

Zadanie 1. (3 pkt)

Na początku lat 90-tych XX w. zmieniła się mapa polityczna Europy. Na podstawie niżej podanych zdań rozpoznaj nowopowstałe państwa i wpisz odpowiadające im litery we właściwe kontury na załączonej mapie Europy.



- A. Państwo to powstało w wyniku zjednoczenia dwóch państw, które mocarstwa światowe utworzyły po II wojnie światowej.
Państwo:.....
- B. Słabsze ekonomicznie państwo spośród dwóch, które powstały w 1993 r. w wyniku aksamitnej rewolucji z rozpadu państwa istniejącego od 1918 r.
Państwo:.....
- C. Mniejsze od Polski państwo uważane w Europie za żywy relikw socjalizmu, ogłosiło niepodległość jako ostatnie z byłych republik ZSRR, do dziś faktycznie i formalnie silnie związane z Rosją.
Państwo:
- D. Najlepiej rozwinięte gospodarczo państwo powstałe z rozpadu byłej Jugosławii, jako jedyne uniknęło wojny domowej w latach 90-tych XX w.
Państwo:
- E. Państwo bałtyckie, które razem z Polską wstąpiło do Unii Europejskiej; ogłoszenie niepodległości przez to państwo rozpoczęło rozpad terytorialny ZSRR.
Państwo:

Zadanie 2. (2 pkt)

Podaj nazwę regionu, którego dotyczą wymienione wydarzenia związane z konfliktem rozgrywającym się na jego obszarze. Wymień strony tego konfliktu (państwa lub narody).

- a) powstanie OWP
- b) wojna sześciodniowa.
- c) wybuch intifady
- d) mapa drogowa..

Region.....

Strony konfliktu.....

Zadanie 3. (1 pkt)

OPEC zrzesza 10 państw – eksporterów ropy naftowej. Na spotkaniach przedstawicieli tych państw ustala się między innymi roczne limity wydobycia ropy dla każdego z członków OPEC.

Przeczytaj uważnie poniższe stwierdzenia i zaznacz te, które właściwie określają główne cele państw zrzeszonych w OPEC.

- a) Ujednoczenie polityki w zakresie wydobycia ropy naftowej.
- b) Maksymalne zwiększenie wydobycia i eksportu ropy przez każdy kraj OPEC.
- c) Systematyczne ograniczenie eksportu ropy naftowej.

- d) Utrzymanie wysokich cen ropy na rynkach światowych.
- e) Koordynowanie wielkości importu w państwach kupujących ropę naftową.

Zadanie 6. (1 pkt)

Na obszarach konfliktowych często stacjonują wojska ONZ-tu (tak jak np. w strefie Wzgórz Golan). Przedstaw jedno z zadań, które wypełniają przebywające w strefach konfliktowych wojska ONZ, lub podaj przykład ich działań.

.....

.....

Zadanie 8. (2 pkt)

Podaj po dwie konsekwencje (społeczne, polityczne, kulturowe lub gospodarcze) uchodźstwa:

- a) dla kraju z którego uchodźcy uciekają,
- b) dla kraju udzielającego im azylu.

- a)
 - 1.
 - 2.
- b)
 - 1.
 - 2.

Zadanie 9. (3 pkt)

Uzupełnij tabelę, wpisując obok informacji o konflikcie litery oznaczające miejsce, w którym on występuje (obszar lub państwo) oraz uczestniczące w nim zwaśnione strony. Wpisz litery oznaczające wyłącznie informacje wybrane z podanych pod tabelą.

Lp.	Informacje o konflikcie	Miejsce konfliktu	Strony konfliktu
1.	Naród biorący udział w konflikcie, był rozproszony po całym świecie do roku 1947, kiedy to decyzją ONZ, proklamowano utworzenie nowego państwa. W 1967 roku po tzw. „wojnie sześciodniowej” poszerzył swoje terytorium, przyłączając ziemie kilku sąsiednich krajów. Trwający nieustannie bunt na terenach okupowanych przynosi wielkie straty. Mimo rokowań pokojowych, w które włączają się największe mocarstwa i podpisaniu w Camp David w 1979 r. porozumienia, konflikt trwa nadal, wciąż w licznych zamachach i walkach giną ludzie.		
2.	Ten konflikt cechuje fanatyzm religijny i nieprzejednany stosunek protestantów do katolików. W licznych akcjach terrorystycznych ginie wiele niewinnych osób. Podczas tzw. „Krwawej niedzieli” zginęło wielu demonstrujących katolików. Zamieszki i uliczne walki powoduje coroczny marsz oranżystów organizowany na cześć zwycięstwa protestantów nad katolikami w XVIII w.		
3.	Jedną ze stron konfliktu jest naród zamieszkujący góryste tereny Bliskiego Wschodu. Jego ziemie, na mocy traktatu w Lozannie w 1923 roku, rozdzielono pomiędzy 4 państwa. Od kilkudziesięciu lat prowadzi on wojnę partyzancką o uzyskanie własnego terytorium.		
4.	To najbardziej krwawy od zakończenia II wojny światowej, konflikt w Europie. Przyczyny konfliktu są złożone, należą do nich: różnicowanie religijne (mieszkają tu katolicy, wyznawcy prawosławia i islamu), różnicowanie etniczne, różnicowanie gospodarcze. Po II wojnie światowej państwo to stanowiło federację kilku narodów. Pogłębiające się antagonizmy i kryzys gospodarczy w latach 90 doprowadziły do rozpadu federacji i wybuchu krwawych i barbarzyńskich walk. Masowe czystki etniczne spowodowały interwencję wojsk NATO.		

Miejsce konfliktu (obszar, państwo):

a) Ruanda,	e) Jugosławia, Chorwacja, Bośnia i Hercegowina,	i) Kaszmir,
b) Timor Wschodni,	f) Kosowo,	j) Malwiny,
c) Irlandia Płn.,	g) Cypr,	k) Izrael.
d) Hiszpania,	h) Turcja, Irak, Syria, Iran,	

Strony konfliktu:

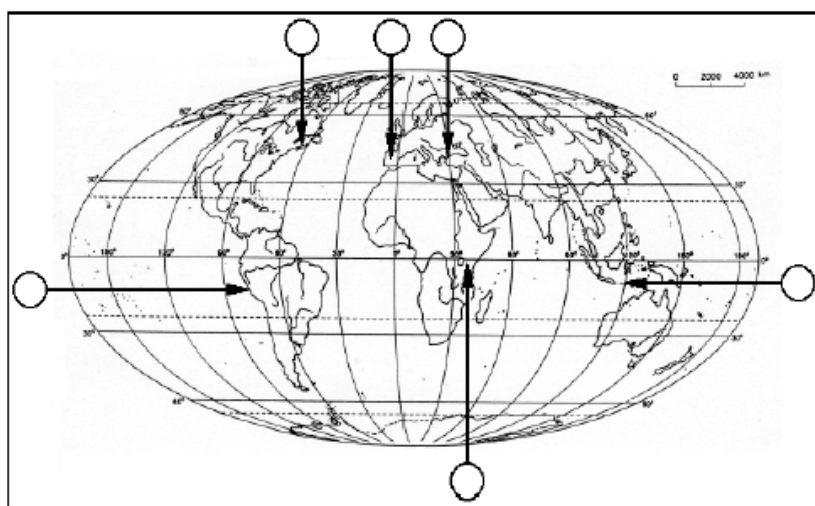
A. Kurdowie, państwa na terenie których Kurdowie mieszkają,	B. Żydzi, Palestyńczycy,
C. Serbowie, Chorwaci, Bośniacy,	D. Tutsi, Hutu,
E. Grecy, Turcy,	F. chrześcijanie, muzułmanie,
G. Pakistańczycy, Hindusi,	H. anglikanie, katolicy,
I. Argentyńczycy, Anglicy,	J. Baskowie, Kastylijczycy,

Zadanie 10. (3 pkt)

Wpisz w wyznaczone miejsca na mapie konturowej świata litery od A do F, którym przyporządkowano wybrane zamachy terrorystyczne na przełomie XX i XXI wieku.

Wybrane zamachy terrorystyczne:

- A. marzec 2004 roku - na pociąg podmiejski w Madrycie, którym jechali mieszkańcy pobliskich miejscowości do pracy,*
- B. wrzesień 2001 roku - na wieżowce World Trade Center w Nowym Jorku,*
- C. sierpień 1998 roku - na budynek ambasady USA w Nairobi,*
- D. październik 2002 roku- na klub nocny w kurorcie turystycznym Bali,*
- E. listopad 2003 roku - na synagogi i konsulatu brytyjski w Stambule,*
- F. marzec 2002 roku - wybuch samochodów pułapek przed budynkiem ambasady USA w Limie.*



Opracowano na podstawie różnych źródeł.

Zadanie 11. (4 pkt)

Przyporządkuj podane charakterystyki właściwym organizacjom pozarządowym.

Nazwy organizacji wybierz spośród podanych : *I. Międzynarodowy Czerwony Krzyż,*

II. Amnesty International, III. Survival International, IV. Światowy Fundusz na rzecz Przyrody, V. Lekarze bez Granic.

Liczba organizacji pozarządowych jest o jedną większa od liczby charakterystyk i nie podlega przyporządkowaniu.

A. Walczy o przestrzeganie praw człowieka, organizując światowe kampanie, np.: przeciwko karze śmierci, stosowaniu tortur. Jedną z form działania jest wysyłanie listów od osób prywatnych między innymi w obronie praw kobiet.

B. Powstała, aby opiekować się w czasie wojny rannymi chorymi i jeńcami, natomiast w czasie pokoju pomagać ofiarom klęsk żywiołowych, np.: trzęsień ziemi, powodzi, ofiarom wypadków, epidemii oraz prześladowań politycznych.

C. Podejmuje różnorodne działania na rzecz utrzymania odrębności kulturowej i zachowanie tradycji ludności plemiennych. Jednym z sukcesów tej organizacji jest zrezygnowanie z rajdów samochodowych w Gujanie Francuskiej na terenach zamieszkiwanych przez Indian.

D. Organizuje misje i werbuje wolontariuszy (lekarzy, pielęgniarki), aby nieść pomoc ludziom na terenach, na których występują epidemie chorób zakaźnych, działania wojenne. Pomaga także ofiarom trzęsień ziemi i uchodźcom.

A	B	C	D

Zadanie 13 (3 pkt.)

Podaj nazwy organizacji, z którymi Polska związana jest członkostwem lub współpracą, a których główne zadania zapisano poniżej:

- współpraca w celu utrzymania pokoju na świecie, koordynowanie współpracy międzynarodowej w różnych dziedzinach (np. żywienia, pomocy dzieciom itp.)
.....
- program „Partnerstwo dla pokoju” przewidujący współpracę polityczną i wojskową, powołany w celu zapewnienia krajom większego poczucia bezpieczeństwa
.....
- uaktywnienie wymiany handlowej w rejonie niektórych państw dawnego bloku socjalistycznego, znoszenie ceł i innych barier, wspólna polityka zabezpieczeń przed konkurencją z zewnątrz
.....
- utworzenie jednolitego organizmu gospodarczego ze swobodnym przepływem kapitału, siły roboczej, towarów; wspólna polityka pieniężna i fiskalna.
.....

Zadanie 15. (5 pkt)

Podkreśl w każdej z grup państwo, nie będące członkiem danej organizacji polityczno – gospodarczej.

1. OPEC – Organizacja Państw Eksportujących ropę Naftową	ALGIERIA, ARABIA S., IRAK, IRAN, JAPONIA
2. CEFTA – Środkowoeuropejskie Porozumienie o Wolnym Handlu	ALBANIA, CZECHY, POLSKA, RUMUNIA, WĘGRY
3. OECD – Organizacja Współpracy Gospodarczej i Rozwoju	FRANCJA, JAPONIA, KANADA, PAKISTAN, POLSKA
4. WNP – Wspólnota Niepodległych Państw	BIALORUŚ, GRUZJA, MONGOLIA, ROSJA, UKRAINA
5. LPA – Liga Państw Arabskich	ALGIERIA, EGIPCI, INDIE, LIBIA, MAROKO

Zadanie 19. (3 pkt)

Do każdego z niżej podanych narodów dopisz nazwę państwa, w którym walczy

on o uzyskanie niepodległości.

- a) Kurdowie -
- b) Palestyńczycy -
- c) Baskowie -

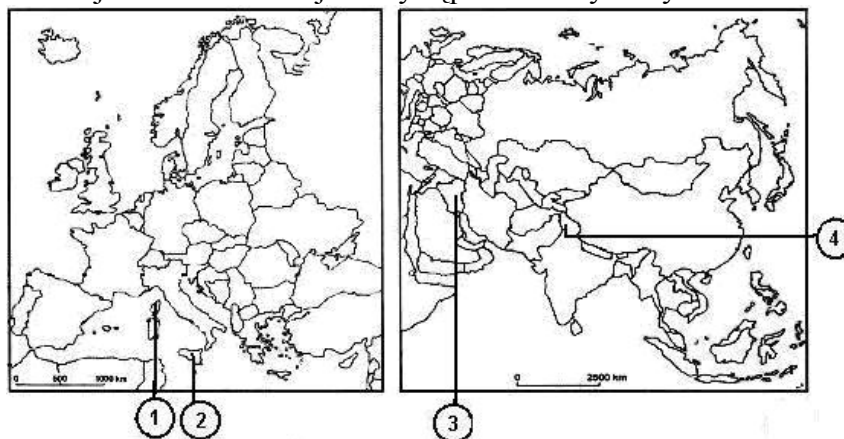
Zadanie 21. (2 pkt)

Wymień cztery państwa, które pojawiły się na mapie politycznej Europy w wyniku przemian politycznych na tym kontynencie pod koniec XX wieku.

- 1.
- 2.
- 3.
- 4.

Zadanie 22. (2 pkt)

Na mapie konturowej zaznaczono miejsca występowania wybranych konfliktów



Uzupełnij tabelę, przyporządkowując wybranym konfliktom odpowiedni numer zaznaczony na mapie oraz podając ich przyczyny.

Numer na mapie	Miejsce konfliktu	Przyczyny
	Korsyka	
	Irak	
	Kaszmir	

Zadanie 25. (3 pkt)

Podaj po dwa kraje sąsiadujące z Polską i spełniające podane niżej warunki:

a) należą do UE

- 1. 2.

b) są członkami NATO








- 1. 2.

c) należą do WNP

- 1. 2.

Zadanie 23. (1 pkt)

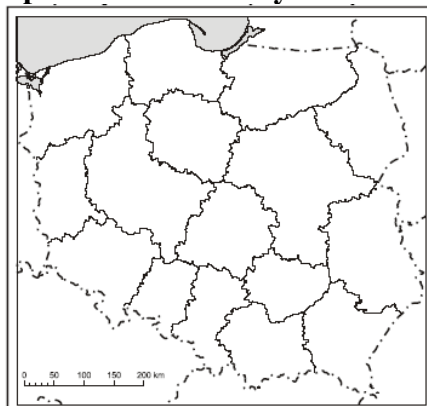
W tabeli zamieszczono dane o wynikach wyborów samorządowych w Polsce w 2002 roku.

Województwo	SLD-UP	PO PIS	Samobrona	LPR	PSL	Unia Samorządowa	UPR
							
Procent uzyskanych głosów							
dolnośląskie	27,7	16,1	17,5	15	6,3	7,5	2,1
kujawsko-pomorskie	31,8	12,1	18,4	14	10,8	1,3	1,5
lubelskie	20,6	8,5	21,8	18,4	19,8	0,9	1,5
lubuskie	42,9	13,1	13,1	12,9	8,4	2	1,7
łódzkie	23,9	9,1	21,5	13,9	15,3	1,2	2,2
małopolskie	17,7	19,1	11,4	17,9	8,1	0,9	2,9
mazowieckie	21	*	15,8	14,3	11,7	1,5	3,5
opolskie	24,5	11	11,3	11,6	10,5	0,6	2,4
podkarpackie	18,4	**	16,3	22,9	14,1	0,5	2,3
podlaskie	20,1	16,1	16,1	18,3	12,3	0,6	0,5
pomorskie	21,6	30,7	14,1	10,4	6,3	3,8	2,6
śląskie	25,8	14,2	11	11,4	4,3	5,8	2,1
świętokrzyskie	26	13,1	21	10	20,3	0,6	1,7
warmińsko-mazurskie	32	13,6	16,7	13,2	12,6	0,9	2,1
wielkopolskie	27,9	16,6	15,5	11,3	12,6	1,8	2,2
zachodniopomorskie	33,2	11,2	19,1	13,2	5,5	1,5	2,1

* W województwie mazowieckim kandydaci PO uzyskali 8,5% głosów, a kandydaci PIS 17,4% głosów.

* * W województwie podkarpackim wystartował komitet Podkarpacki Razem, na którego listach znaleźli się kandydaci PO i PIS i uzyskali 15,4% głosów.

Na mapie konturowej Polski zaznacz odpowiednim szrafem obszary województw, w których wygrali kandydaci partii nie zrzeszonych w koalicji SLD-UP.



Zadanie 24. (2 pkt)

Podaj trzy przyczyny zróżnicowania preferencji wyborców na podstawie wyników wyborów samorządowych w 2002 roku.

Przyczyny:

1.
2.
3.

Zadanie 26. (1 pkt)

Od zakończenia II wojny światowej najwięcej konfliktów zbrojnych na świecie wybuchło w Afryce. Do najbardziej zaognionych konfliktów doszło w ostatnich latach XX wieku w Rwandzie, Somalii, Sudanie i Republice Konga.

Na przykładzie wymienionych krajów podaj dwie przyczyny występowania konfliktów zbrojnych w Afryce.

1.
2.

Zadanie 27. (1 pkt)

Zaznacz, wśród wymienionych, działanie podjęte przez ONZ lub jej Agendy.

- A. Inwazja sił zbrojnych w Iraku w 2003 r.
- B. Tworzenie „Listy dziedzictwa światowego”.
- C. Nadzór nad wielkością wydobycia i kształtowaniem cen ropy naftowej.
- D. Działania Czerwonego Krzyża w strefach konfliktów zbrojnych.

Zadanie 29. (1 pkt)

Spośród podanych w tabeli krajów, wymień trzy kraje położone nad Zatoką Perską, w których w końcu XX wieku miały miejsce konflikty zbrojne z sąsiadami.

1.
2.
3.

Tabela: Wydobycie ropy naftowej na Bliskim Wschodzie w 2002 r.

Lp.	Kraj	Wielkość wydobycia w mln ton	Udział w światowym wydobyciu w %
1.	Arabia Saudyjska	394	12,3
2.	Iran	181	5,5
3.	Irak	115	3,6
4.	Kuwejt	101	3,1
5.	Zjednoczone Emiraty Arabskie	99	3,0
6.	Libia	66	2,0
7.	Egipt	41	1,3
8.	Katar	33	1,0
Razem		1030	31,8
Świat		3329	100,0

Zadanie 36. (3 pkt)

Wiele państw „bogatej Północy” obawia się zamachów terrorystycznych, podobnych do tych, jakie wydarzyły się po 2000 r. w Stanach Zjednoczonych, Hiszpanii, Wielkiej Brytanii.

a) Podaj dwa przykłady skutków gospodarczych dla krajów „bogatej Północy” spowodowanych zamachami terrorystycznymi w tych krajach.

1.
2.

b) Zaproponuj dwa pokojowe działania na skalę międzynarodową, które przyczyniłyby się do zmniejszenia zagrożenia terroryzmem.

1.

2.
.....

Zadanie 37. (2 pkt)

Przyporządkuj wymienionym w tabeli organizacjom po jednej z podanych cech odnoszących się do celów, zadań lub osiągnięć tych organizacji.

1. Jest to porozumienie o wolnym handlu podpisane w 1994 roku przez USA, Meksyk i Kanadę.
2. Największym jej osiągnięciem jest „zielona rewolucja” przeprowadzona m.in. w Indiach.
3. Kontroluje ceny, handel i wielkość wydobycia ropy naftowej krajów członkowskich.
4. Głównym celem jest współpraca polityczna i gospodarcza państw Afryki.
5. Koordynuje politykę celną i ustala wspólne zasady w międzynarodowym handlu na świecie.

Organizacja	OPEC	NAFTA	WTO	FAO
Numer cechy

Zadanie 38. (2 pkt)

Początek XXI wieku przyniósł światu falę ataków terrorystycznych. Poniżej podano przykłady miejsc, w których one wystąpiły.

- 11.09.2001 r. – Nowy Jork i Waszyngton
- 11.03.2004 r. – Madryt
- 07.07.2005 r. – Londyn
- 23.07.2005 r. – Szarm el-Szejk – Egipt

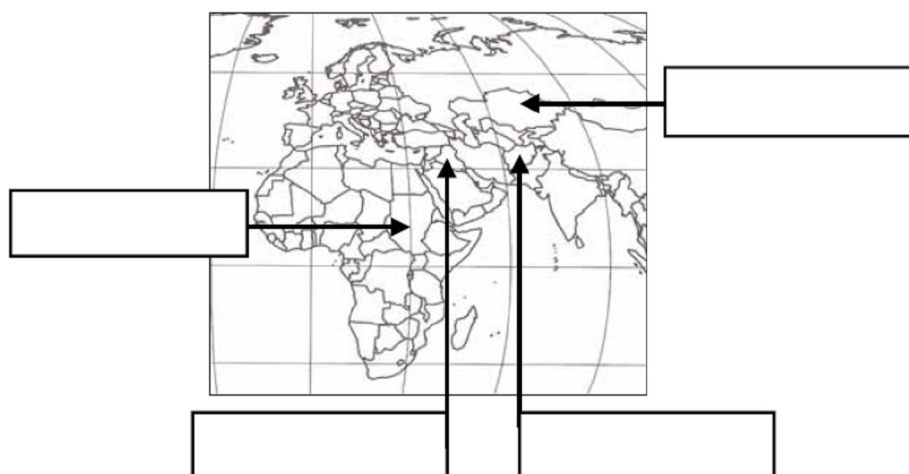
Wymień cztery konsekwencje ekonomiczne lub polityczne ataków terrorystycznych dla krajów, w których miały one miejsce.

1.
2.
3.
4.

Zadanie 39. (1 pkt)

Polscy żołnierze zaangażowani zostali w zbrojne działania na terenie Iraku i Afganistanu.

Zapisz we właściwych ramkach nazwy państw Afganistan oraz Irak tak, aby strzałki wskazywały położenie tych krajów.



Zadanie 40 (2 pkt)

Nazwij miejsce i podaj dwie przyczyny konfliktu zbrojnego w Afryce, który wystąpił w ostatnich latach XX lub na początku XXI wieku.

Miejsce

konfliktu:.....

Przyczyny:

1.
2.

Zadanie 41*. (2 pkt)

Organizacjom terrorystycznym (A – E) przyporządkuj ich określenia (1 – 5).

- | | |
|----------------------------------|---|
| A) Irlandzka Republikańska Armia | 1) organizacja fundamentalistów palestyńskich |
| B) Kraj Basków i Wolność (ETA) | 2) organizacja Osamy bin Ladena, zwana również „międzynarodówką terrorystów” |
| C) HAMAS | 3) organizacja separatystyczna - narodowa w Hiszpanii i Francji |
| D) Al-Kaida | 4) organizacja działająca w Algierii, dążąca do obalenia świeckich władz i wprowadzenia państwa religijnego |
| E) Zbrojne Siły Islamskie | 5) organizacja zbrojna katolików w Irlandii Północnej |

A	B	C	D	E

Zadanie 42. (2 pkt)

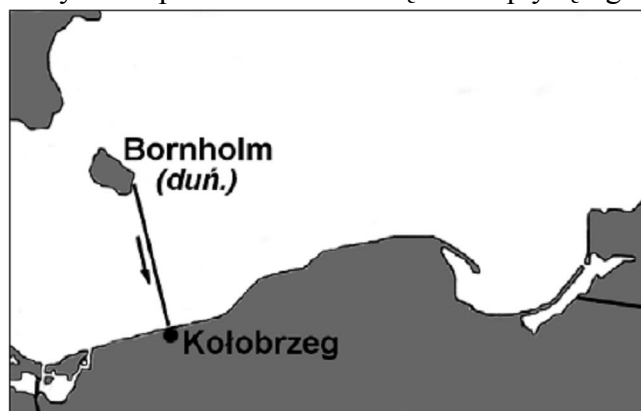
W tabeli podano informacje dotyczące narodów nieposiadających suwerennych państw.

Obok każdego opisu wpisz nazwę narodu, którego dotyczy ten opis.

Opis	Naród
Naród arabski zamieszkujący Izrael i sąsiednie państwa. Czynnikiem przeciwstawiał się osadnictwu żydowskiemu. W 1964 r. z inicjatywy Ligi Arabskiej powstało OWP – organizacja, którą dziesięć lat później uznano za jedynego reprezentanta tego narodu.	
Naród zamieszkujący północną część obszaru Kaukazu. W 1991 roku proklamował powstanie niepodległej republiki, skutkiem czego było wkroczenie wojsk rosyjskich i wybuch krwawych walk.	
Naród mieszkający po obu stronach Pirenejów na terenach dzisiejszej Hiszpanii i Francji. W 1959 roku powstała ETA – tajna, separatystyczna organizacja walcząca o niezależność tego narodu.	

Zadanie 43*. (1 pkt)

Na rysunku przedstawiono trasę statku płynącego z Bornholmu do Kołobrzegu.



Podkreśl dwa obszary morskie, przez które płynie statek z Bornholmu do Kołobrzegu.

- A. Polskie morze terytorialne
- B. Polskie wody wewnętrzne

C. Wyłączna strefa ekonomiczna Polski

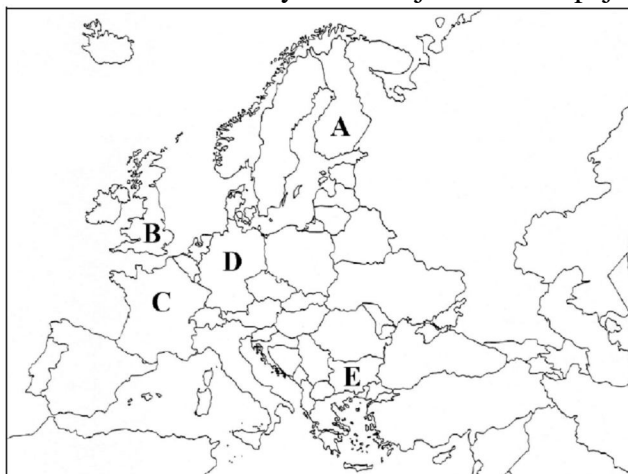
Zadanie 44. (1 pkt)

Zaznacz nazwę kraju, w którym stroną współczesnego konfliktu etniczno-politycznego stała się ludność albańska.

- A. Turcja
- B. Serbia
- C. Rosja
- D. Grecja

Zadanie 45. (2 pkt)

Na mapie literami od A do E zaznaczono wybrane kraje Unii Europejskiej.



Podział polityczny według stanu na 31.12.2007 r.

Na podstawie opisów rozpoznaj trzy kraje UE spośród pięciu oznaczonych na mapie literami od A do E. Obok każdego z opisów podaj nazwę kraju oraz literę, którą jest on oznaczony na mapie.

- Jeden z dwóch krajów przyjętych do Unii Europejskiej w 2007 roku. Ważną rolę w gospodarce kraju odgrywa turystyka. Większość ludności wyznaje prawosławie.

Kraj Oznaczenie na mapie

- Kraj UE o najniższej gęstości zaludnienia, dużej lesistości, wysokim odsetku internautów wśród ludności. Jest eksporterem papieru, produktów przemysłu drzewnego i sprzętu telekomunikacyjnego.

Kraj Oznaczenie na mapie

- Kraj o największej powierzchni wśród państw UE, wyróżniający się dobrze rozwiniętym rolnictwem, ważną rolę w jego gospodarce odgrywa turystyka międzynarodowa. Jest to najliczniej odwiedzany przez turystów kraj Europy.

Kraj Oznaczenie na mapie

Zadanie 46*. (2 pkt)

Organizacje pozarządowe są ważnym partnerem rządów i samorządów terytorialnych w rozwiązywaniu problemów, dotyczących spraw lokalnych i ogólnościatowych.

a) Podaj cechę organizacji pozarządowych, która odróżnia ich działalność od innych organizacji funkcjonujących na świecie.

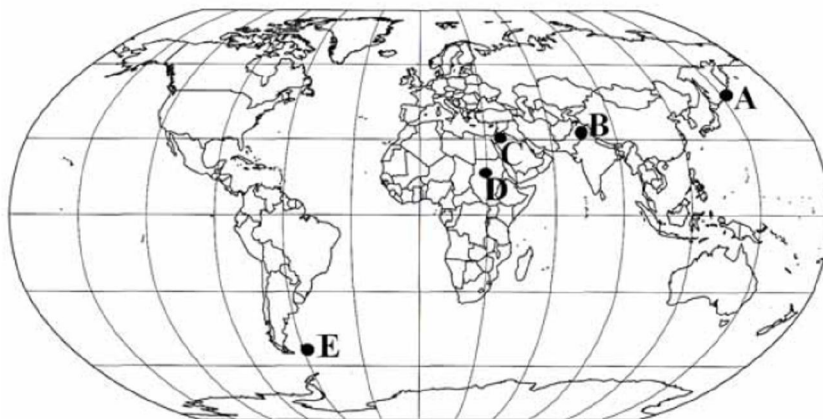
.....
.....

b) Podaj dwie nazwy organizacji pozarządowych, wybierając je spośród podanych poniżej.

ONZ, Czerwony Krzyż, FAO, Greenpeace, Grupa Wyszehradzka

Zadanie 47*. (2 pkt)

Na mapie zaznaczono obszary wybranych współczesnych konfliktów zbrojnych i sporów terytorialnych.

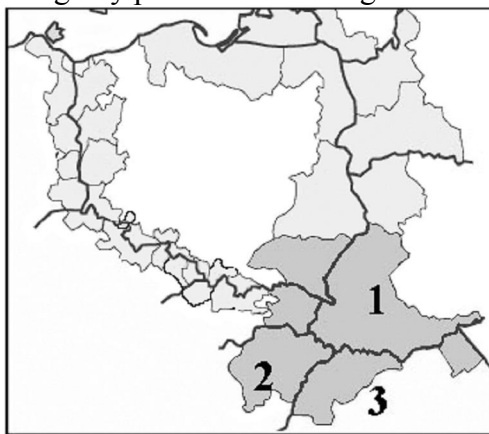


Uzupełnij poniższą tabelę, podając nazwy państw, stanowiących strony konfliktów zbrojnych lub sporów terytorialnych oraz litery, którymi oznaczono na mapie obszary ich występowania.

Obszar konfliktu lub sporu	Nazwy krajów stanowiących strony konfliktów lub sporów	Litera na mapie
Kaszmir /
Kuryle /

Zadanie 48. (1 pkt)

Na mapie przedstawiono euroregiony położone wzdłuż granic Polski w 2001 roku.



Na podstawie: Dorota Makowska, *Geografia*, WSiP, Warszawa 2002

Uzupełnij tabelę dotyczącą euroregionu Karpaty, wpisując nazwy oznaczonych liczbami państw oraz ich stolicy.

Oznaczenie państwa na mapie	Nazwa państwa	Nazwa stolicy
1		
2		
3		

Zadanie 49. (2 pkt)

Wojna w Darfurze objęła pogranicze z Czadem i Republiką Środkowoafrykańską, grożąc wybuchem regionalnego konfliktu.

a) Podaj nazwę kraju, którego częścią jest Darfur.



Na podstawie: *Gazeta Wyborcza*, 16 listopada 2007

b) Wymień dwa społeczne następstwa konfliktu w Darfurze dla ludności tego regionu lub ludności krajów bezpośrednio graniczących z Darfurem.

1.
2.

Zadanie 50*. (2 pkt)

Uzupełnij tabelę, wpisując cechy położenia geopolitycznego Polski i jego konsekwencje.

Położenie Polski	Cechy położenia	Konsekwencje
Względem potęg gospodarczo-politycznych Europy.		Korzyści wynikające z tranzytu.
W stosunku do granic zewnętrznych Unii Europejskiej.		
W odniesieniu do kręgów kulturowych Europy.	Na granicy kultur: wschodnio- i zachodnioeuropejskiej.	

Zadanie 51. (2 pkt)

Na mapie konturowej zaznaczono literami A – E wybrane kraje w Europie.



Podział polityczny według stanu na 31.12.2007

Wpisz do tabeli oznaczenia literowe i nazwy czterech krajów, które powstały jako samodzielne państwa po 1989 roku.

Oznaczenie literowe na mapie	Nazwa państwa

Zadanie 52. (1 pkt)

Kurdowie nie posiadają własnego państwa. Największe skupisko Kurdów znajduje się w górzystej krainie zwanej Kurdystanem.

Spośród podanych wybierz trzy państwa, na obszarze których znajduje się terytorium Kurdystanu.

Arabia Saudyjska, Irak, Izrael, Indie, Iran, Tajlandia, Turcja

1., 2., 3.

Zadanie 53*. (2 pkt)

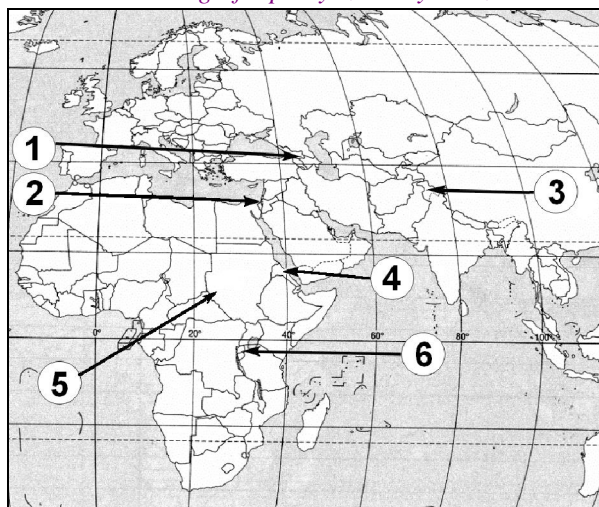
Podanym w tabeli organizacjom przyporządkuj części świata, w których są położone państwa, należące do tych organizacji.

Afryka, Australia, Ameryka Południowa, Ameryka Północna, Azja, Europa

Organizacja	Części świata
NAFTA
OPEC	1. 2. 3.

Zadanie 54*. (2 pkt)

Na mapie zaznaczono miejsca wybranych konfliktów.



Uzupełnij tabelę, wpisując numer, którym oznaczono na mapie miejsce występowania danego konfliktu.

Konflikt	Numer na mapie
Konflikt w strefie Gazy	
Wojna między plemionami Tutsi i Hutu	
Wojna domowa w Darfurze	

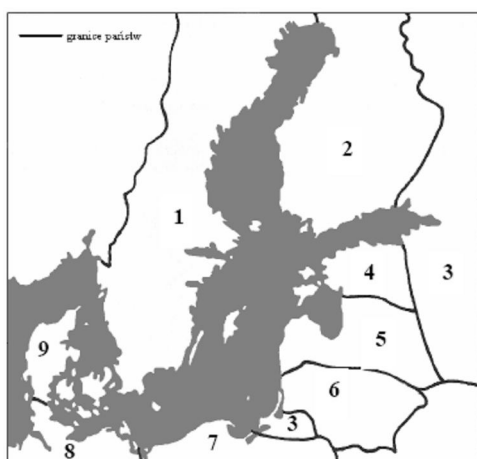
Zadanie 55. (2 pkt)

Wymień cztery przyczyny konfliktów zbrojnych w Afryce.

1.
2.
3.
4.

Zadanie 56*. (2 pkt)

Mapa przedstawia Morze Bałtyckie i państwa nad nim położone.



Cyfra na mapie	Nazwa państwa	Nazwa stolicy
1.		
2.		
3.		
4.		
5.		
6.		
7.		
8.		
9.		

Na podstawie: E. Dudek, J. Wójcik, Geografia, zeszyt ćwiczeń, Wydawnictwa Edukacyjne WIKING, Wrocław 2006

**Rozpoznaj państwa nadbałtyckie oznaczone na mapce cyframi 1 - 9.
 Uzupełnij tabelę wpisując nazwę państwa i jego stolicy.**

Zadanie 57*. (1pkt)

Podaj nazwę jednego euroregionu, w ramach którego Polska współpracuje z co najmniej dwoma innymi krajami nadbałtyckimi.

Euroregion:

Zadanie 58*. (2 pkt)

Podaj trzy przykłady problemów dotyczących Bałtyku lub terenów nadmorskich, które mogą być przedmiotem współpracy krajów w ramach euroregionu wymienionego w zadaniu 57.

1.
2.
3.

Zadanie 59. (2 pkt)

Na mapie zaznaczono szarą barwą cztery wybrane państwa.



Przyporządkuj każdej z podanych międzynarodowych organizacji jedno państwo członkowskie, wpisując jego nazwę we właściwe miejsce tabeli. Państwa wybierz wyłącznie spośród zaznaczonych na mapie.

Organizacja	Nazwa państwa
NATO	
OPEC	

Zadanie 60*. (1 pkt)

Na mapie zaznaczono numerami 1–6 miejsca wybranych konfliktów zbrojnych.



Wpisz numer, którym oznaczono na mapie miejsce występowania danego konfliktu.

Konflikt w Osetii Południowej Konflikt między Syngalezami i Tamilami

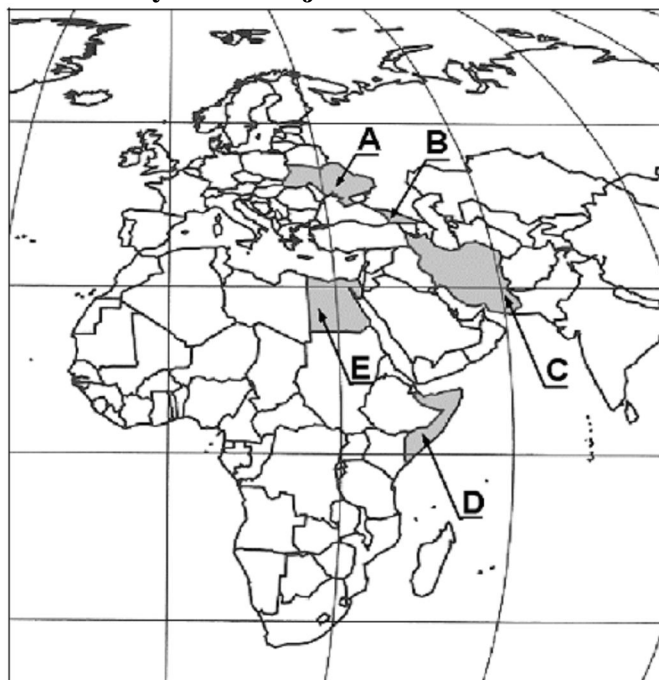
Zadanie 66. (2 pkt)

Na podstawie opisów rozpoznaj trzy kraje graniczące z Polską. Wpisz do tabeli nazwę każdego z krajów obok jego opisu.

Opis kraju	Nazwa kraju
Spośród sąsiadów Polski kraj ten ma najmniejszą liczbę ludności. Jego ukształtowanie powierzchni jest nizinne o rzeźbie polodowcowej.	
Jednostką monetarną w tym kraju od 1 stycznia 2009 r. jest euro. Góry stanowią 61% powierzchni kraju.	
Kraj, z którym posiadamy najdłuższą granicę. Najwyższy szczyt tego kraju jest położony na granicy z Polską.	

Zadanie 67. (2 pkt)

Na mapie literami A–E oznaczono wybrane kraje.



Przyporządkuj każdemu krajowi wymienionemu w tabeli numer dotyczącego go opisu konfliktu oraz literę, którą oznaczono położenie tego kraju na mapie.

1. Tocząca się od 1991 r. wojna domowa w kraju, u wybrzeży którego bezpiecznej żegludze zagrażają ataki piratów.
2. Konflikt zbrojny w sierpniu 2008 r. z wojskami Rosji oraz separatystycznych Abchazji i Osetii Południowej; w czasie trwania tego konfliktu prezydent Micheil Saakaszwili ogłosił, że jego kraj występuje ze Wspólnoty Niepodległych Państw.
3. Jeden z najdłużej trwających konfliktów zbrojnych na świecie. Wynika z trudności utworzenia sąsiadujących ze sobą państw – arabskiego i żydowskiego.
4. Rewolucja islamska, podczas której w 1979 r. zmuszono szacha do ustąpienia i wyjazdu z kraju. Jej skutkiem było proklamowanie republiki islamskiej i ograniczenie kontaktów z Zachodem.

Kraj	Opis konfliktu (wpisz numer 1, 2, 3 lub 4)	Oznaczenie kraju na mapie (wpisz literę A, B, C, D lub E)
Gruzja		
Iran		
Somalia		

Zadanie 68*. (2 pkt)

Konwencja ONZ o Prawie Morza z 1982 r. uregulowała sposób wyznaczania 200 milowej wyłącznej strefy ekonomicznej oraz określiła zasady korzystania z tych akwenów.

a) Podaj przykład działania, które można podejmować na obszarze wyłącznej strefy ekonomicznej bez zgody państwa, do którego ta strefa należy.

.....

b) Podaj dwie korzyści, jakie mają państwa nadmorskie z przysługujących im praw w ich wyłącznych strefach ekonomicznych.

1.

.....

2.

.....

Zadanie 69*. (3 pkt)

Na mapie zaznaczono państwa należące do międzynarodowej organizacji kontrolującej wydobycie i eksport jednego z surowców mineralnych.



a) Podaj nazwę (pełną lub skrót) organizacji, do której należą państwa zaznaczone na mapie.

.....

b) Wpisz do tabeli po dwie nazwy państw członkowskich tej organizacji na każdym z podanych kontynentów.

*IV Liceum Ogólnokształcące im. KEN Poznań
Ćwiczenia na fakultet 2011/12
19. Geografia polityczna i wyborcza*

Kontynent	Państwa członkowskie
Afryka	1.
	2.
Ameryka Południowa	1.
	2.
Azja	1.
	2.